



Roll No.

--	--	--	--	--

Answer Sheet No. _____

Sig. of Candidate. _____

Sig. of Invigilator. _____

GEOGRAPHY HSSC-II

SECTION – A (Marks 17)

Time allowed: 25 Minutes

NOTE: Section–A is compulsory . All parts of this section are to be answered on the question paper itself. It should be completed in the first 25 minutes and handed over to the Centre Superintendent. Deleting/overwriting is not allowed. Do not use lead pencil.

Q. 1 Circle the correct option i.e. A / B / C / D. Each part carries one mark.

- (i) Total population of Australia is about _____
A. 31 million B. 20 million C. 25 million D. None of these
- (ii) Antarctica was discovered by _____
A. Abel Tasman B. Voscodá Gama
C. Columbus D. Captain James Cook
- (iii) In which city of Australia was the first English establishment established?
A. Melborn B. Sydney C. Tasmania D. None of these
- (iv) What per cent of the area of Antarctica is covered with snow?
A. 70% B. 80% C. 90% D. 97%
- (v) Amazon Basin is located in the climatic region termed _____ type.
A. Equatorial B. Monsoon C. Mediterranean D. None of these
- (vi) Durand line separates Pakistan from _____
A. China B. India C. Iran D. Afghanistan
- (vii) Which year did China get independence?
A. 1940 AD B. 1949 AD C. 1948 AD D. 1947 AD
- (viii) China is the world leading producer of _____
A. Zinc B. Tungsten C. Copper D. Lead
- (ix) Which year was the Indus Basin Treaty signed between India and Pakistan?
A. 1960 AD B. 1958 AD C. 1970 AD D. 1980 AD
- (x) What per cent of the population of Pakistan lives in Sind?
A. 55.5% B. 23.0% C. 13.54% D. None of these
- (xi) Where are the Rocky mountains found?
A. Europe B. Asia C. Africa D. North America
- (xii) The river Nile falls in the _____
A. Black Sea B. Caspian Sea C. Red Sea D. Mediterranean Sea
- (xiii) What is the average height of "Blue Range" of the USA?
A. 800 metre B. 1200 metre C. 1000 metre D. 600 metre
- (xiv) Adana and Izmir in Turkey are famous for the production of _____
A. Rice B. Cotton C. Wheat D. None of these
- (xv) About 75% area of Africa lies in the _____ Zone.
A. Torrid B. Temperate C. Frigid D. None of these
- (xvi) Which of the following sugar mills is the oldest?
A. Layyah Sugar mill B. Darya Khan Sugar mill
C. Kamalia Sugar mill D. Rahwai Sugar mill
- (xvii) Canberra is the capital of _____
A. Argentina B. USA C. Australia D. Mexico

For Examiner's use only:

Total Marks:

17

Marks Obtained:

**جغرافیہ ایچ ایس ایس سی-II****حصہ اول (کل نمبر: 17)**

وقت: 25 منٹ

نوٹ: حصہ اول لازمی ہے۔ اس کے جوابات پر پے پر ہی دیے جائیں گے۔ اس کو پہلے پچیس منٹ میں مکمل کر کے تاہم مرکز کے حوالے کر دیا جائے۔ کٹ کر دو بارہ لکھنے کی اجازت نہیں۔ ایڈمنسٹریٹو کا استعمال ممنوع ہے۔

سوال نمبر: دیے گئے الفاظ یعنی الف راج رو میں سے درست جواب کے گرد دائرہ لگائیں۔ ہر جزو کا ایک نمبر ہے۔

- (i) آسٹریلیا کی کل آبادی تقریباً _____ ہے۔
الف۔ 31 ملین ب۔ 20 ملین ج۔ 25 ملین د۔ درج شدہ میں سے کوئی نہیں
- (ii) انڈونیشیا نے دریافت کیا؟
الف۔ اہل تسمان ب۔ اسکوٹ گاما ج۔ کولمبس د۔ گینٹو جہاز سبک
- (iii) آسٹریلیا کے شہر میں انگریزوں نے پہلی نوآبادی قائم کی؟
الف۔ مڈورن ب۔ سڈنی ج۔ تسمانیہ د۔ درج شدہ میں سے کوئی نہیں
- (iv) انڈونیشیا کا کتنے فیصد رقبہ برف سے ڈھکا ہوا ہے؟
الف۔ 70 فیصد ب۔ 80 فیصد ج۔ 90 فیصد د۔ 97 فیصد
- (v) انڈونیشیا کا طاس آج ہوائی جہازوں سے کس خطے میں واقع ہے؟
الف۔ استوائی خط ب۔ مون سون کا خط ج۔ بحیرہ روم کا خط د۔ درج شدہ میں سے کوئی نہیں
- (vi) ڈیورنڈ لائن پاکستان کو _____ سے الگ کرتی ہے۔
الف۔ چین ب۔ بھارت ج۔ ایران د۔ افغانستان
- (vii) چین کس سال آزاد ہوا؟
الف۔ 1940ء ب۔ 1949ء ج۔ 1948ء د۔ 1947ء
- (viii) چین دنیا کا سب سے بڑا _____ پیدا کرنے والا ملک ہے۔
الف۔ چھت ب۔ ٹیکسٹائل ج۔ تانہ د۔ سیسہ
- (ix) ہندوستان اور پاکستان کے درمیان سندھ عاں کا معاہدہ کس سال طے پایا؟
الف۔ 1960ء ب۔ 1958ء ج۔ 1970ء د۔ 1980ء
- (x) پاکستان کی کتنے فیصد آبادی سندھ میں رہتی ہے؟
الف۔ 55.5% ب۔ 23.0% ج۔ 13.54% د۔ درج شدہ میں سے کوئی نہیں
- (xi) ریزرکاپھازی مسابقتیں واقع ہے؟
الف۔ یورپ ب۔ ایشیا ج۔ افریقہ د۔ شمالی امریکہ
- (xii) دریائے نیل _____ میں گرتا ہے۔
الف۔ بحیرہ اسود ب۔ بحیرہ روم ج۔ بحیرہ روم د۔ بحیرہ روم
- (xiii) یونیسکو کے ہیورٹیج کی اوسط بلندی کیا ہے؟
الف۔ 800 میٹر ب۔ 1200 میٹر ج۔ 1000 میٹر د۔ 600 میٹر
- (xiv) ترکی کے علاقے ازمیر اور ازمیر (Izmir) کس فصل کی پیداوار کے لیے مشہور ہیں؟
الف۔ چاول ب۔ کپاس ج۔ گندم د۔ درج شدہ میں سے کوئی نہیں
- (xv) افریقہ کا تقریباً 75 فیصد رقبہ _____ میں واقع ہے۔
الف۔ منطقت حارہ ب۔ منطقت معتدل ج۔ منطقت بارہ د۔ درج شدہ میں سے کوئی نہیں
- (xvi) کون سی شہر سب سے پرانی ہے؟
الف۔ نیو شامبل ب۔ دریائے نیل ج۔ کماپ شامبل د۔ راہوالی شامبل
- (xvii) کیلیفورنیا کا دارالحکومت ہے؟
الف۔ اورینٹا ب۔ پالٹا بے ج۔ آسٹریلیا د۔ میکسیکو

--

حاصل کردہ نمبر:

17

کل نمبر:

برائے ممتحن:



GEOGRAPHY HSSC-II

Time allowed: 2:35 Hours

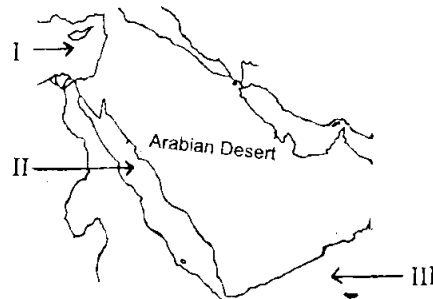
Total Marks Sections B and C: 68

NOTE: Answer any fourteen parts from Section 'B' and any two questions from Section 'C' on the separately provided answer book. Use supplementary answer sheet i.e. Sheet-B if required. Write your answers neatly and legibly.

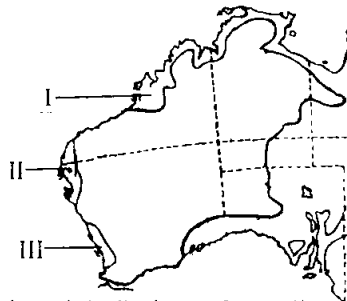
SECTION – B (Marks 42)

Q. 2 Attempt any FOURTEEN parts. The answer to each part should not exceed 3 to 4 lines. (14 x 3 = 42)

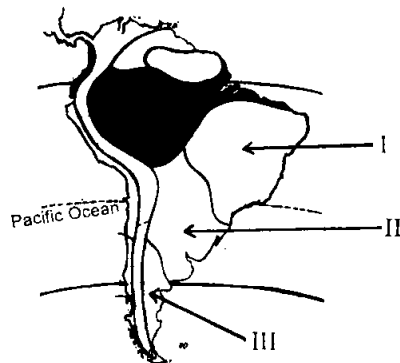
- (i) Write down the geographical location of Pakistan.
- (ii) Name three sources of power of Energy in Pakistan.
- (iii) Name any three rivers of China.
- (iv) Write briefly about the wealth of mineral oil of Saudi Arabia.
- (v) Name three types of Coal. (vi) Name three Great Lakes of America.
- (vii) Where is the Orinoco Basin located? What is its importance?
- (viii) Name three densely populated areas of Europe.
- (ix) Name three plateaus of Asia. (x) What is meant by Environmental pollution?
- (xi) What is Migration? List its main types. (xii) What is the importance of Murray-Darling Basin?
- (xiii) Name the seas in the surrounding of Saudi Arabia marked I, II, III in the following map, on your answer book:



- (xiv) Name the basins labelled I, II, III on the given map of Australia on your answer book:



- (xv) Name the climatic regions labelled I, II, III on the given map of South America on your answer book:



- (xvi) Name three lakes found in the Rift Valleys of Africa
- (xvii) Name main Cotton Textile centres of China.
- (xviii) Foreign trade of China is a miracle. Explain.
- (xix) Write a short note on Pakistan's foreign trade

SECTION – C (Marks 26)

Note: Attempt any TWO questions. All questions carry equal marks.

(2 x 13 = 26)

- Q. 3** Describe the Physical Regions of Europe.
- Q. 4** Discuss Iron and Steel Industry of the USA.
- Q. 5** Discuss the Inter-relationship between people and their environment with special reference to Pakistan.

جغرافیہ ایچ ایس ایس سی-II

مکمل نمبر حصہ دوم اور حصہ سوم : 68

وقت : 2:35 گھنٹے

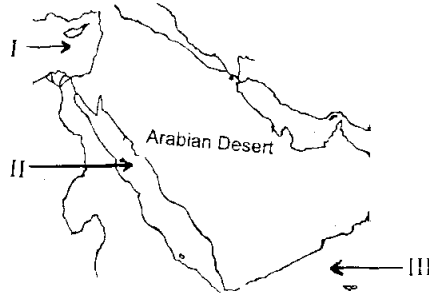
نوٹ : حصہ دوم اور سوم کے سوالات کے جوابات علیحدہ سے مہیا کی گئی جوابی کاپی پر دیں۔ حصہ دوم میں سے چودہ (14) اجزاء اور حصہ سوم میں سے کوئی سے دو (2) سوال حل کیجیے۔ ایکسٹرا شیٹ (Sheet-B) طلب کرنے پر مہیا کی جائے گی۔

حصہ دوم (مکمل نمبر 42)

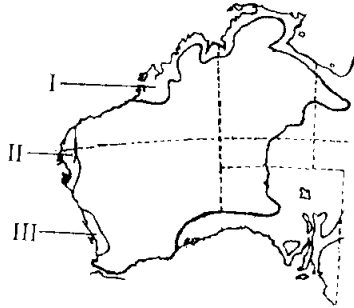
(14x3=42)

سوال نمبر ۲: مندرجہ ذیل میں سے چودہ (14) اجزاء کے تین سے چار سطروں تک محدود جوابات لکھیے:

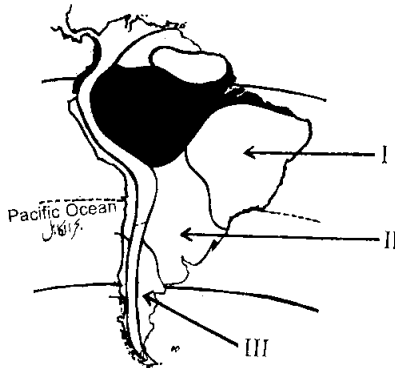
- | | | | |
|--------|--|--------|--|
| (i) | پاکستان کا محل وقوع تحریر کریں۔ | (ii) | پاکستان کے تین طاقتی وسائل کے نام لکھیں۔ |
| (iii) | چین کے کوئی سے تین دریاؤں کے نام لکھیں۔ | (iv) | سعودی عرب کی معدنی تیل کی دولت سے متعلق مختصر تحریر کریں۔ |
| (v) | کونڈی تین اقسام کے نام لکھیں۔ | (vi) | امریکہ کی گریٹ لیکس (Great Lakes) میں سے تین کے نام لکھیں۔ |
| (vii) | اورینوکو کا طاس کہاں واقع ہے؟ اس کی کیا اہمیت ہے؟ | (viii) | براعظم یورپ کے تین زیادہ گنجان آباد علاقوں کے نام لکھیں۔ |
| (ix) | براعظم ایشیا کی تین سطوح مرتفع کے نام لکھیں۔ | (x) | ماحولیاتی آلودگی سے کیا مراد ہے؟ |
| (xi) | نقل مکانی کیا ہے؟ نقل مکانی کی بڑی اقسام کے نام لکھیں۔ | (xii) | مرے ڈارلنگ (Murray-Darling) کے طاس کی کیا اہمیت ہے؟ |
| (xiii) | ذیل میں دیے گئے نقشے میں سعودی عرب کے ماتحت بحیروں کو I, II, III لیبل کیا گیا ہے۔ ان کے نام اپنی جوابی کاپی میں لکھیں۔ | | |



(xiv) ذیل میں دیے گئے نقشے میں آسٹریلیا کے طاس (Basins) کو I, II, III لیبل کیا گیا ہے۔ ان کے نام اپنی جوابی کاپی میں لکھیں۔



(xv) ذیل میں دیے گئے جنوبی امریکہ کے نقشے میں I, II, III لیبل شدہ آب و ہوا کے خطوں کے نام جوابی کاپی میں تحریر کیجیے۔



- | | | | |
|---------|---|--------|---|
| (xvi) | افریقہ کی ریفٹ وادیوں میں واقع تین جھیلوں کے نام لکھیں۔ | (xvii) | چین کی سوئی کپڑے کی صنعت کے بڑے مراکز کے نام لکھیں۔ |
| (xviii) | ”چین کی خارجہ تجارت ایک مچھرہ ہے“ وضاحت کیجیے۔ | (xix) | پاکستان کی بیرونی تجارت پر مختصر نوٹ لکھیں۔ |

حصہ سوم (مکمل نمبر 26)

(2x13=26)

(کوئی سے دو سوال حل کیجیے۔ تمام سوالوں کے نمبر برابر ہیں۔)

سوال نمبر ۳: یورپ کے طبعی حصے بیان کریں۔ سوال نمبر ۴: یونائٹڈ ایس کی ”لوہے اور فولاد“ کی صنعت پر بحث کریں۔

سوال نمبر ۵: پاکستان کے حوالے سے لوگوں اور ماحولیات (Environment) کے تعلق پر بحث کریں۔